

2年 さんすう 「たし算と ひき算の ひっ算①」

学しゅうした日： 月 日 ()

名まえ： _____

◎きょうかしよ 48ページの もんだいと、 ひなたさん、
だいちさんの ことばを こえに 出して よんで みましよう。

②上の ^え絵の ばしよでは、 ^{なん}何こ あきかんを ひろったかな。

こ

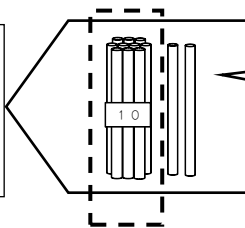
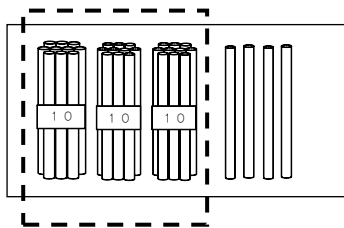
下の ^え絵の ばしよでは、 ^{なん}何こ あきかんを ひろったかな。

こ

ひろった あきかんは、 あわせて ^{なん}何こに なるかな。

しき

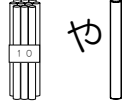
34に 10より 大きい ^{かず}数を
たすと・・・

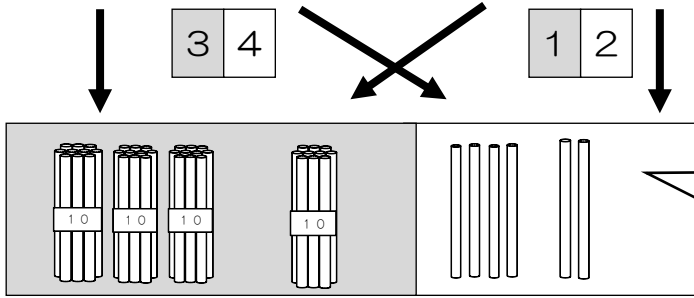
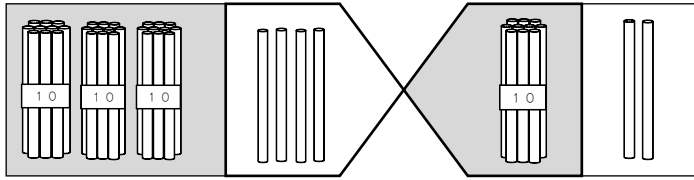


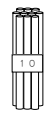
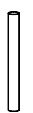
40こより ^{おお}多く
なります。

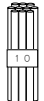
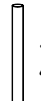
◎こえに 出して よんでみましよう。


③大きい ^{かず}数 どうしの たし算の しかたを ^{かんが}考えよう。

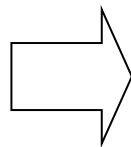
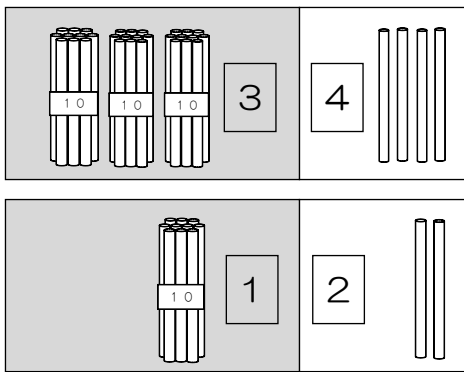
1 $34 + 12$ の ^{けいさん}計算のしかたを、 をつかって考えよう。



 と  でわけて
あつめると・・・

 が こ、 が こで になります。

 たてに ならべて みましよう。



	3	4
+	1	2
<hr/>		

このように たてに ならべて 計算する ことが あります。

^{きょう}今日の 学しゅうの かんそうを かきましよう。