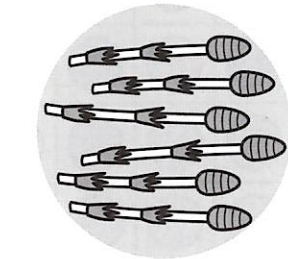


① えをみて きたえましょう。

① つくしを 6本^{ほん}もって いるよ。



さやかさんより 3本 おおいはよ。

けんたさんは つくしを なん本

もって いますか。


しき

きたえ

本

②

きんぎよを 10疋^{ひき}き すくったよ。



さやかさんより 4疋^{ひき}き すくないよ。

けんたさんは きんぎよを なん

疋^{ひき}き すくいましたか。

しき

きたえ

疋^{ひき}き

② おはじきとりを しました。あつこ

さんは 9こ とりました。

たくやさんは あつこさんより

5こ おおかったそうです。

たくやさんは おはじきを なんこ

とりましたか。

しき

きたえ

こ

③ たくやさんの うえきばちに めが

12こ できました。

あつこさんの うえきばちの めは

たくやさんより 4こ すくなかった

そうです。

あつこさんの うえきばちに めは


なんこ できましたか。

しき

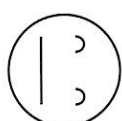
きたえ

こ

「おおい ほう すくない ほう」の が
くしゅうは たのしかったですか？



「おおい ほう すくない ほう」の が
くしゅうは よく わかりましたか？



1ねん

23. 大きさくらべ (2)

くみ	なまえ

① ① ②と ③では どちらが ひろいで しょう。

①

あ い


②

あ い

③

あ い

「大きさくらべ (2)」のがくしゅうは だのしかったですか？



② ① ②はしよとリゲームを しました。 かったのは どちらですか。

さやか けんた

③ ① ②じゃんけんを かったら、□を 1つ ぬります。

あつこ たくや

「大きさくらべ (2)」のがくしゅうは よく わかりましたか？

