

1ねん

22. おおいほうすくないほう



く	なまえ
み	

① えをみて きたえましょう。

① つくしを 6本^{ほん}もって いるよ。



さやかさんより 3本 おおいはよ。




けんたさんは つくしを なん本もって いますか。
しき

きたえ 本

② きんぎよを 10びき すくったよ。



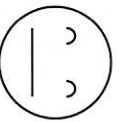
さやかさんより 4びき すくないよ。



けんたさんは きんぎよを なんびき すくいましたか。
しき

きたえ びき

「おおい ほう すくない ほう」の が <しゅうは たのしかったですか？



② おはじきとりを しました。あつこ

さんは 9こ とりました。

たくやさんは あつこさんより

5こ おおかったそうです。

たくやさんは おはじきを なんことりましたか。
しき

きたえ こ

③ たくやさんの うえきばちに めが 12こ できました。

あつこさんの うえきばちの めは

たくやさんより 4こ すくなかった

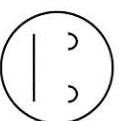

そうです。

あつこさんの うえきばちに めは

なんこ できましたか。
しき

きたえ こ

「おおい ほう すくない ほう」の が <しゅうは よく わかりましたか？

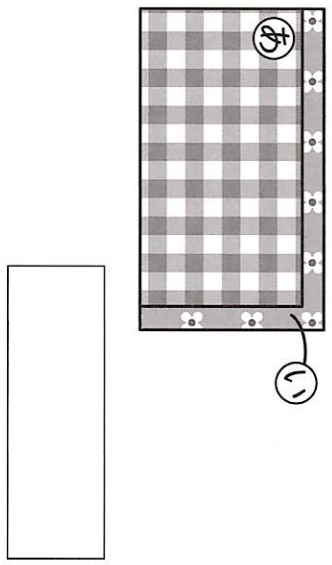
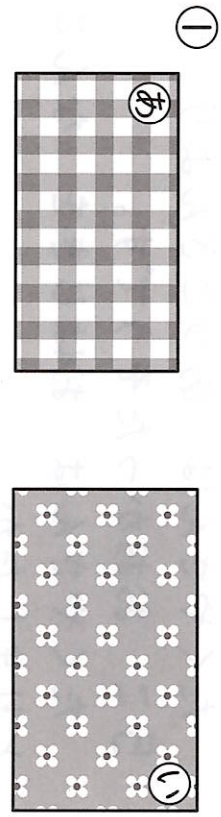


1ねん

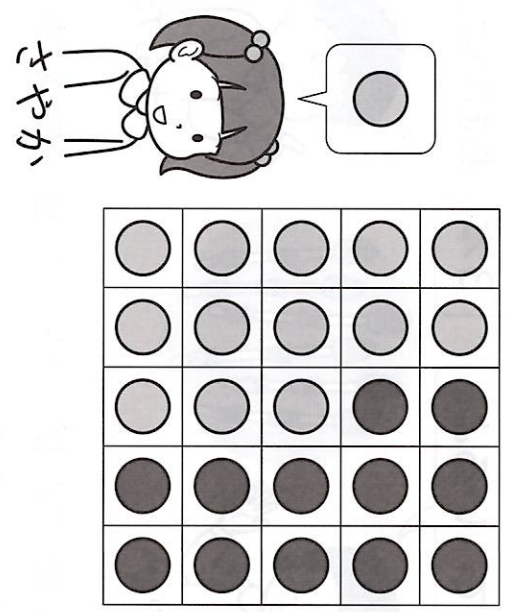
23. 大きさくらべ (2)

くみ	なまえ


① ①と ②では どちらが ひろいで しょう。



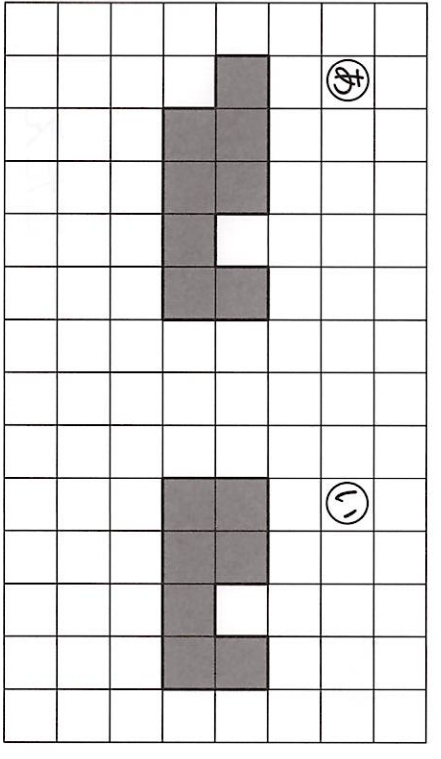
② ばしよとリゲームを しました。 かったのは どちらですか。




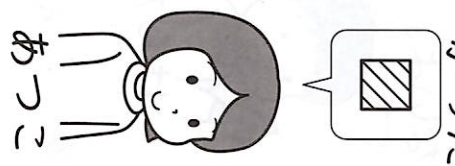
②



③



③ じゃんけんを したら、□を 1つ ぬります。 かったのは どちらですか。



「大きさくらべ (2)」のがくしゅうは だのしかつたですか？

「大きさくらべ (2)」のがくしゅうは よく わかりましたか？

