

2年 さんすう 「たし算と ひき算の ひっ算⑥」

学しゅうした日： 月 日 ( )

名まえ： \_\_\_\_\_

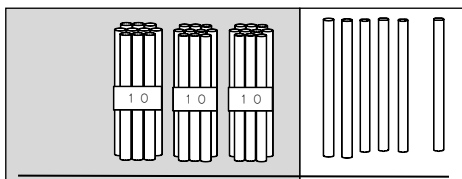
☆きょうかしょ 55ページの ①のもんだいを, こえに 出して よみましょう。

◎しきを かきましょう。

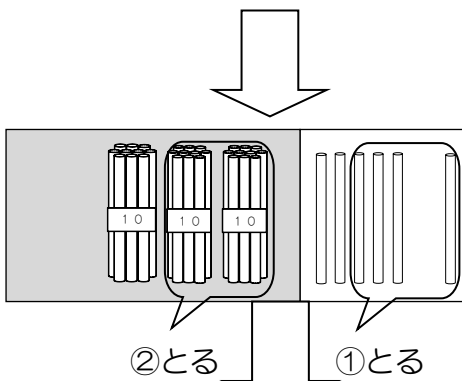
式 \_\_\_\_\_

◎こえに 出して よんでみましょう。

① ひき算の ひっ算の しかたを 考えよう。




きょうかしょ 55ページに ある 計算の しかた を こえに 出して よみましょう。



計算の しかたを かくにん しよう。

	3	6
-	2	4
	1	2

①  
一のくらい  
から 計算  
します。  
「6-4は



1	2
十のくらい	一のくらい

② 十のくらいを 計算 します。  
「3-2は 1」

**2**<sup>こえ</sup>声に出して 36+24の ひっ算を してみよう。

一のくらいは  
 $6 - 4 = 2$   
十のくらいは  
 $3 - 2 = 1$   
こたえは, 12 です。

	3	6
-	2	4
<hr/>		

☆きょうかしょ 55ページの **3** のもんだいを, ノートに やってみましょう。

☆つぎの もんだいを ひっ算で やってみましょう。

①  $45 - 13$

②  $78 - 52$



<sup>きょう</sup>今日の 学しゅうの かんそうを かきましょう。
