

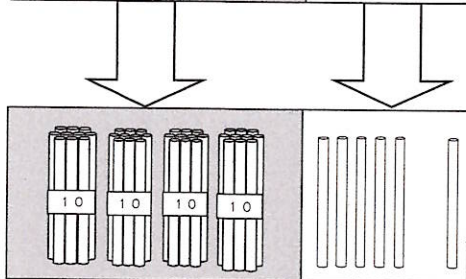
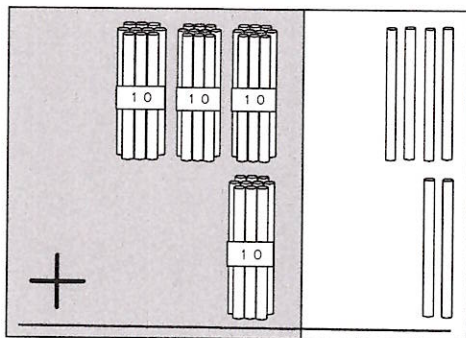
2年 さんすう 「たし算と ひき算の ひっ算②」

学しゅうした日： 月 日 ()

名まえ： _____

◎こえに 出して よんでみましょう。

④ 数を たてに ならべて 計算する しかたを 考えよう。



4	6
十のくらい	一のくらい

きょうかしょ 50ページに ある
計算の しかた を こえに 出して
よみましょう。

計算の しかたを かくにん しよう。

	3	4
+	1	2
	4	6

① 一のくらいから 計算 します。
「4+2は

② 十のくらいを 計算 します。
「3+1は 4」

このような 計算の しかたを ひっ算 と いいます。

② ^{こえ} 声に 出して 34+12の ひっ算を してみよう。★()

一のくらい は
4 + 2 = 6
十のくらい は
3 + 1 = 4
こたえは, 46 です。

	3	4
+	1	2

【ひっ算の かきかた】

① はじめに, 34 を かきます。

	3	4

② つぎに, +12 を かきます。

	3	4
+	1	2

③ さいごに, _____ を かきます。

	3	4
+	1	2

☆きょうかしょ 50ページの **△3** のもんだいを, ノートに やってみましょう。

☆つぎの もんだいを ひっ算で やってみましょう。

① $42 + 16$

② $71 + 28$

きょう 今日の 学しゅうの かんそうを かきましょう。

--

◎じかんの あまっている人は きょうか書129ページ⑱ ㉔を, ノートにしましょう。

2年さんすう 「たし算とひき算のひっ算②」

学しゅうした日： 月 日 ()

名まえ： _____

◎こえに出して よんでみましょう。

④数を たてに ならべて 計算する しかたを 考えよう。

4	6
十のくらい	一のくらい

きょうかしよ 50ページの ある
計算の しかた を こえに 出して
よみましょう。

計算の しかたを かくにん しよう。

3	4
+	2
4	6

① 一のくらいから計算します。「4+2は」

② 十のくらいを計算します。「3+1は4」

このような 計算の しかたを ひっ算 と います。

△**声**に出して 34+12の ひっ算を してみよう。★()

一のくらいは
4 + 2 = 6
十のくらいは
3 + 1 = 4
こたえは、 46 です。

	3	4
+	1	2
	4	6

【ひっ算の かきかた】

① はじめに、 34 を かきます。

	3	4

② つぎに、 +12 を かきます。

3	4
+	1 2

③ さいごに、 _____ を かきます。

3	4
+	1 2

☆きょうかしよ 50ページの ③の もんだいを、ノートに やってみましょう。①② 教科書と同じように書かれていたです

☆つぎの もんだいを ひっ算で やってみましょう。

- ① 42+16
- ② 71+28

	4	2
+	1	6
	5	8

	7	1
+	2	8
	9	9

今日の 学しゅうの かんそうを かきましょう。

◎じかんの あまっている人は きょうか書129ページ④を、ノートにしましょう。
答えは141ページにあります

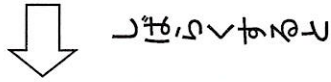
『すみれと あり ③』

じゅんびするもの きもちが書(かん字ドリル ドリルノート

①きもちが書 42ページから 45ページの4行目までを音読しました。★()

②ありが見つけたものはなんですか。きもちが書 44ページから見つけました。

③②で見つけたものを、ありはどうしますか。



④③のあと、たねはどのまじりにかわりましたか。

⑤たねがかわったことから、やちまさんは、どんなことがかんがえられるようになっていきますか。

⑥かん字ドリル・ドリルノートの「黄色」をやりました。

⑦今日の学習をふりがえりしました。

※がんばつたじや、おもしろがたじやなどを書きました。

2年 生かつか 「花や やさいを そだてよう②」

学しゅうした日： 月 日（ ）

名まえ： _____

☆2年生では、「トマト」か「ピーマン」をそだてます。大きく そだつようにと
ねがいを こめて、どちらか そだてたい やさいのえを かこう。本や
本もののやさいを みて、じっくり かんさつしながら かくのも いいね。

