


3年生 「3 わり算」①

月 日 ( )

準備するもの：教科書・ノート



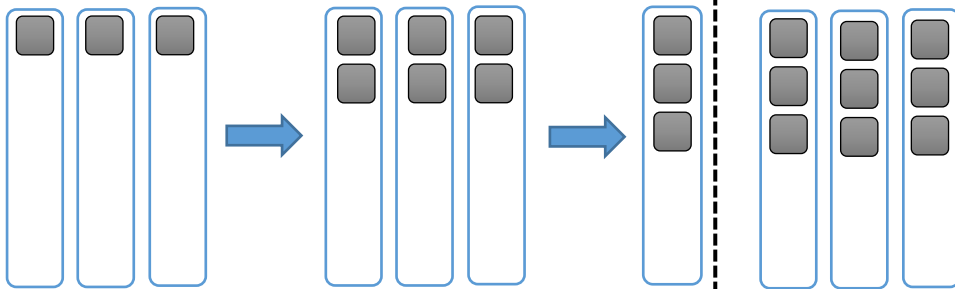
**問題** 12このいちごを、3人に同じ数ずつ分けると、1人分は 何こになるかな。

1人分は何こになるのか、ブロックを使って考えよう。



19ページのお皿を使って考えてみよう

1こずつ、配ってみよう。



まず、見当をつけて、3こずつ配ってみよう。



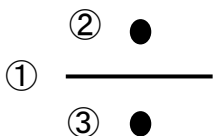
まだ、配れそうだ。

12こを、3人に同じ数ずつ分けるときの1人分をもとめる計算の式を

$$12 \div 3$$

とかき、「12 わる 3」とよみます。


1人分は、4こになります。



なぜってみよう



全部の数		人数		1人分の数		
式	12	÷	3	=	4	4こ



12 ÷ 3 のような計算を わり算 といいます。

練習

20このクッキーを、4人に同じ数ずつ分けたいと思います。  
1人分をもとめる わり算の式をかいてみましょう。

式

今日の学習のふりかえりを書きましょう。

～わかったこと、大切だと思ったこと、ぎもんに思ったこと、次にやってみたいこと～ など