

2年 さんすう 「たし算と ひき算の ひっ算⑥」

学しゅうした日： 月 日 ()

名まえ： _____

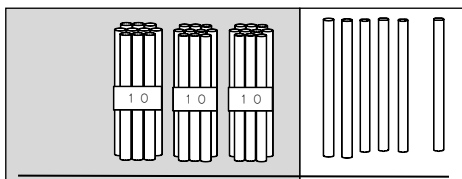
☆きょうかしよ 55ページの ①のもんだいを, こえに 出して よみましょう。

◎しきを かきましょう。

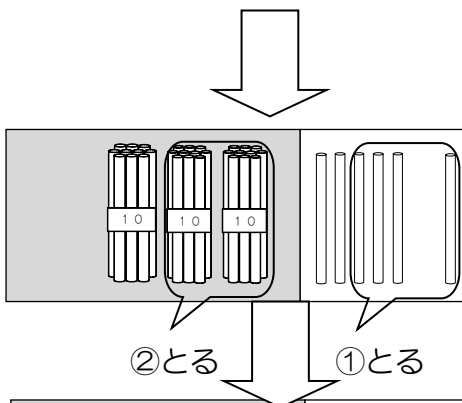
式 _____

◎こえに 出して よんでみましょう。

① ひき算の ひっ算の しかたを 考えよう。




きょうかしよ 55ページに ある 計算の しかた を こえに 出して よみましょう。



計算の しかたを かくにん しよう。

	3	6
-	2	4
	1	2

①
一のくらいから 計算 します。
「6-4は



1	2
十のくらい	一のくらい

② 十のくらいを 計算 します。
「3-2は 1」

△^{こえ}2 声に出して 36+24の ひっ算を してみよう。

一のくらいは
 $6 - 4 = 2$
十のくらいは
 $3 - 2 = 1$
こたえは、 12 です。

	3	6
-	2	4
<hr/>		

☆きょうかしょ 55ページの △3 のもんだいを、ノートに やってみましょう。

☆つぎの もんだいを ひっ算で やってみましょう。

① $45 - 13$

② $78 - 52$

きょう 今日の 学しゅうの かんそうを かきましょう。
