

## 2. いろいろな国の国名と位置

準備するもの：筆記用具 ノート  
社会科 中学生の地理（教科書）

講義内容：教科書4～7ページの内容を行います。

講義の受け方：教科書を開きながら、スライドを進めていきます。

大事だと思う内容を教科書にラインマーカーなどで  
チェックしましょう。  
板書内容を出すので、そこをノートに書きましょう。

**講義の最後に確認テストを行います。**一つ一つの問題に対して、  
口頭で回答するか、メモ帳などに書いて真剣に取り組みましょう


# 知っている国を挙げてみよう！

- 自分が好きなスポーツが強い国
- テレビなどで見たことのある国
- 行ったことのある国
- 小学校で聞いたことのある国

どこでもいくつでも構わないので、たくさん出してみよう！

その中で国旗を知っている国はあるかな？


国旗クイズ① どれの国の国旗でしょう？



国旗クイズ② どの国の国旗でしょう？



国旗クイズ③ どここの国の国旗でしょう？



国旗クイズ④ どの国の国旗でしょう？



見たこともないような国旗で驚きましたか？

これはネパールの国旗です。

なぜネパールはこのような特徴的な国旗なんだろう・・・。





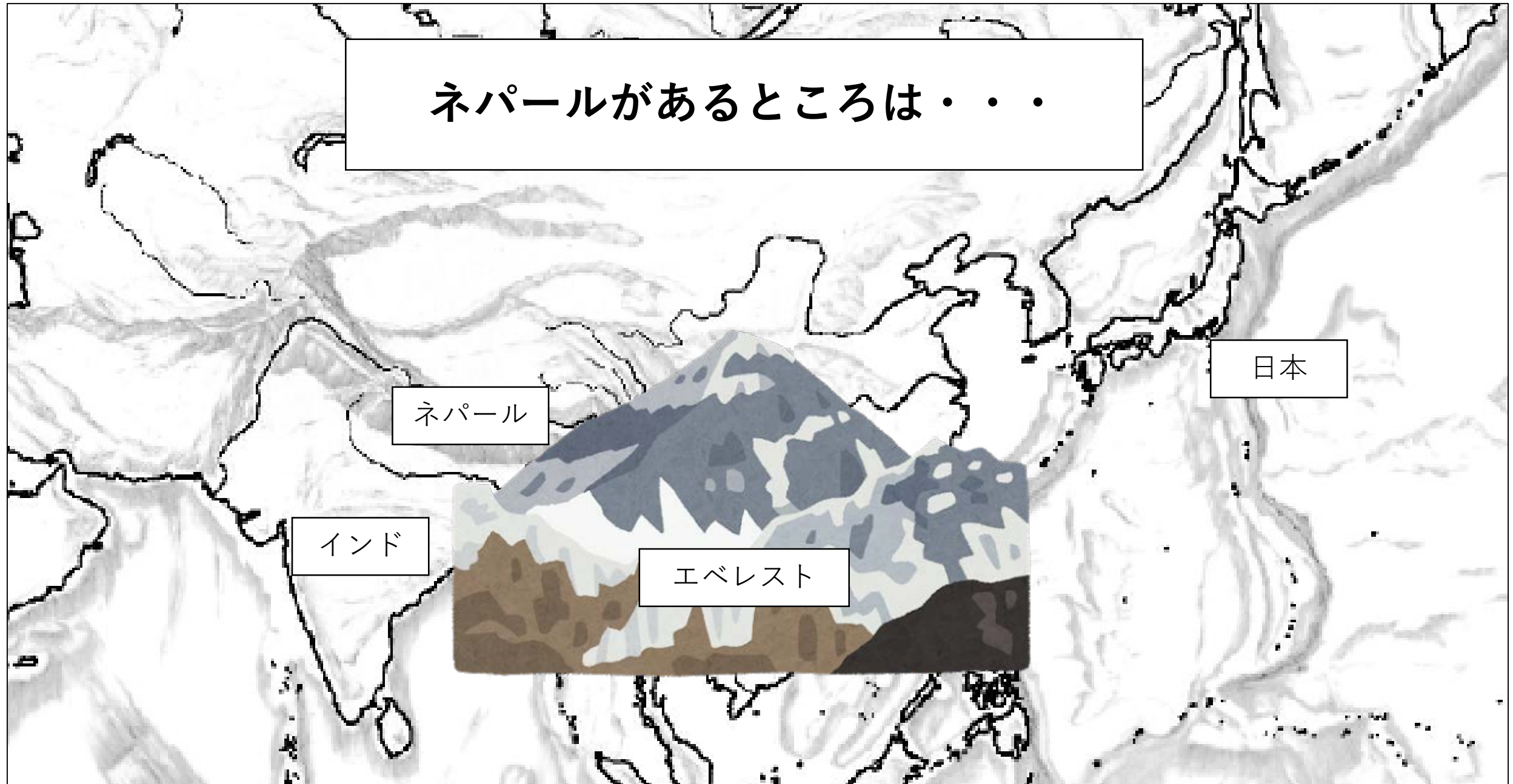
ネパールがあるところは・・・

ネパール

インド

エベレスト

日本



国旗や国の名前にはその国の特徴が反映されます。

例えば国名では・・・アイスランド

この国はどんな国だと思いますか？

寒そうな国だということがわかると思います。

他にもエクアドルやコートジボワール、  
コロンビアなど面白い由来なので後で調べてみま  
しょう！

国と国の間の特徴的なものがあります。

地図帳の41, 42ページを開いてください。

アフリカの地図で特徴的な国境はありますか？

国境が直線の国が多くありますね。

このように人間が考えた緯線や経線が国境になることもあります。

また、国境が海に面していない国を内陸国と呼び、国境がすべて海に面している国は島国と呼ぶ。

他にも国の特徴を探るときにはその国の大きさや人口の多さで知ることができます。

教科書 7 ページの空欄を埋めてみよう！

※地図帳158～160ページを見ながらやりましょう

# 確認テスト

① 地球上では陸地と海のどちらが大きいですでしょうか？

A.海

② 陸地と海の大きさの割合は何対何でしょう？

A.3対7

③ 次のスライドの地図中①～⑥に当てはまるものを答えなさい。

①ユーラシア

②アフリカ

③オーストラリア

④北アメリカ

⑤南アメリカ

⑥太平

# 確認テスト (解答)

① 地球上では陸地と海のどちらが大きいですでしょうか？

A.海

② 陸地と海の大きさの割合は何対何でしょう？

A.3対7

③ 次のスライドの地図中①～⑥に当てはまるものを答えなさい。

①ユーラシア

②アフリカ

③オーストラリア

④北アメリカ

⑤南アメリカ

⑥太平



お疲れ様でした。

また、次回頑張りました。