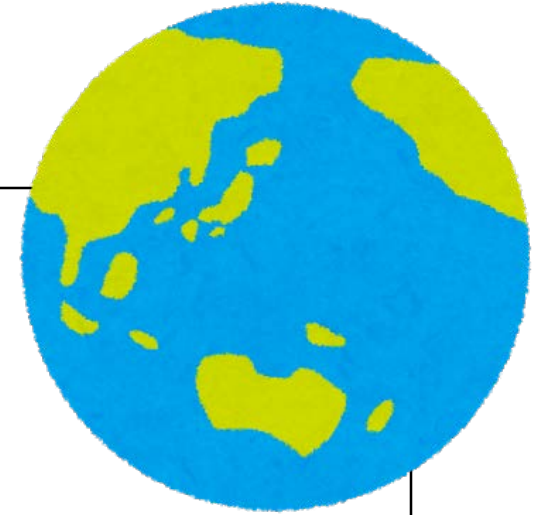


1. 地球をながめて



準備するもの：筆記用具 ノート
社会科 中学生の地理（教科書）

講義内容：教科書 2.3 ページの内容を行います。

講義の受け方：教科書を開きながら、スライドを進めていきます。

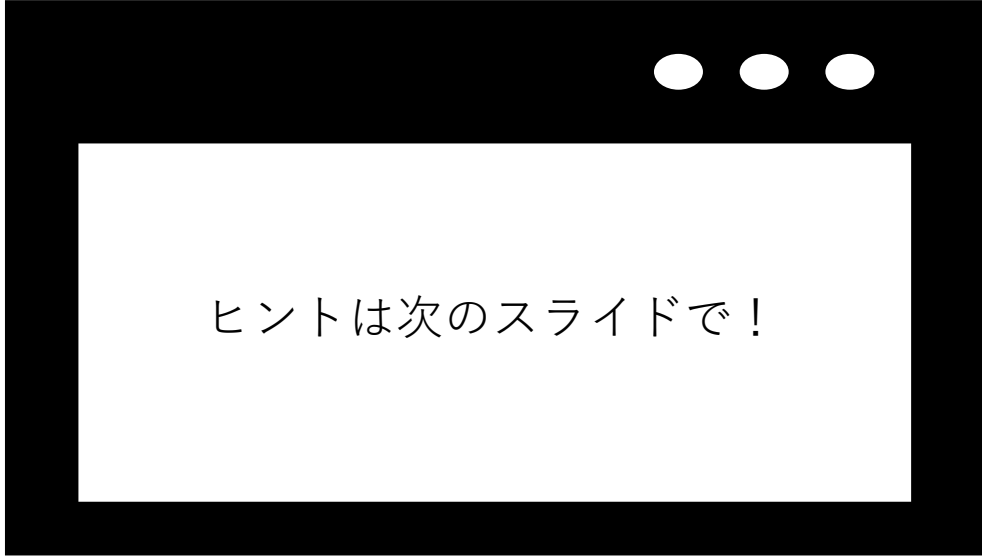
大事だと思う内容を教科書にラインマーカーなどで
チェックしましょう。

板書内容を出すので、そこをノートに書きましょう。

講義の最後に確認テストを行います。一つ一つの問題に対して、
口頭で回答するか、メモ帳などに書いて真剣に取り組みましょう

質問 1

この地球では陸地と海どっちが多いだろう？



ヒントは次のスライドで！



よく見る世界地図の形

正解は . . .

海の方が大きいです！

地球は「水の惑星」と呼ばれるように

海の部分が多く、

陸地と海洋はおよそ 3 対 7 の割合となります。

地球を見る視点を変えると・・・

海が多く見える向きから見た地球



見方によって全然違いますね



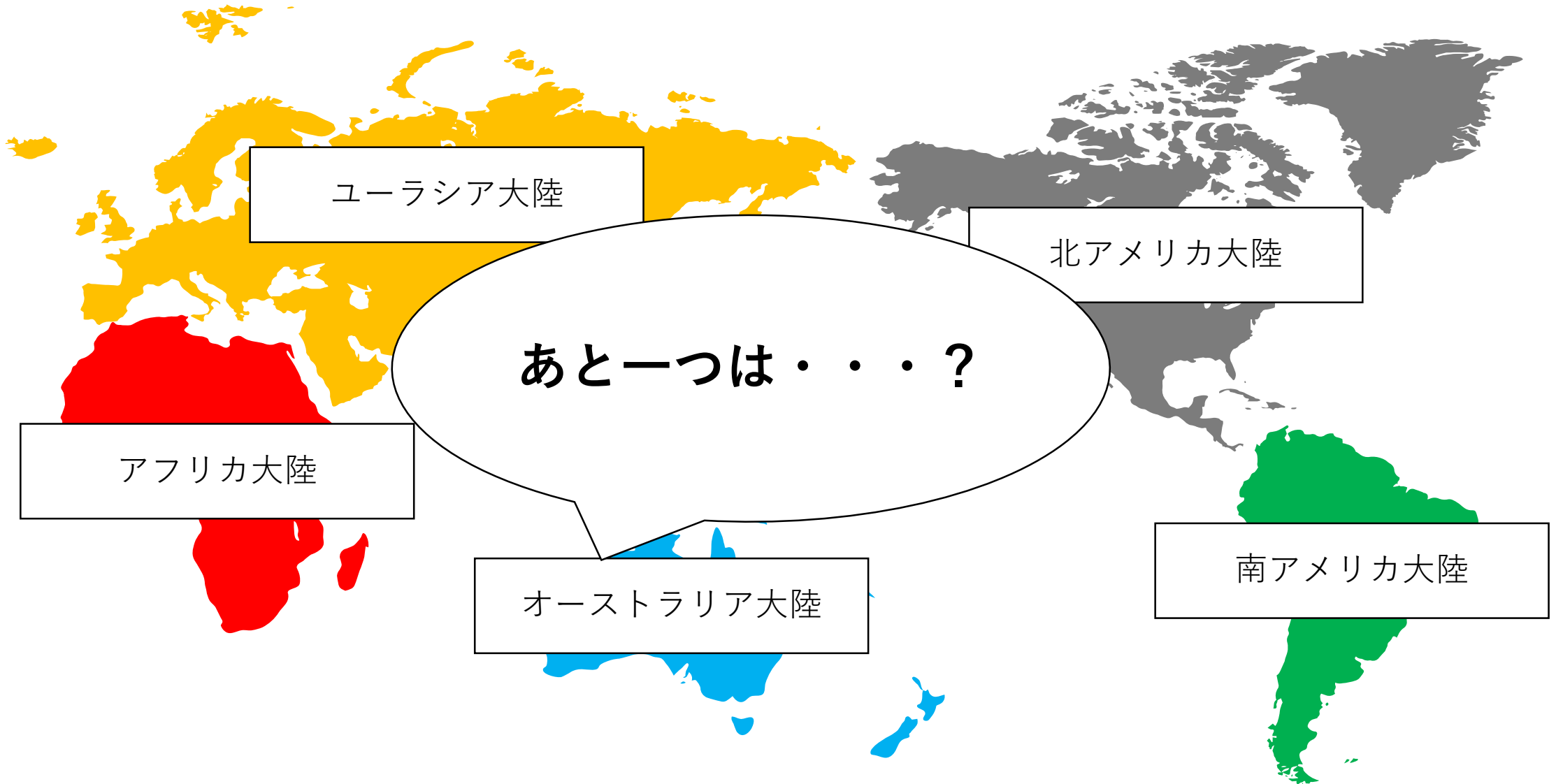
陸が多く見える向きから見た地球



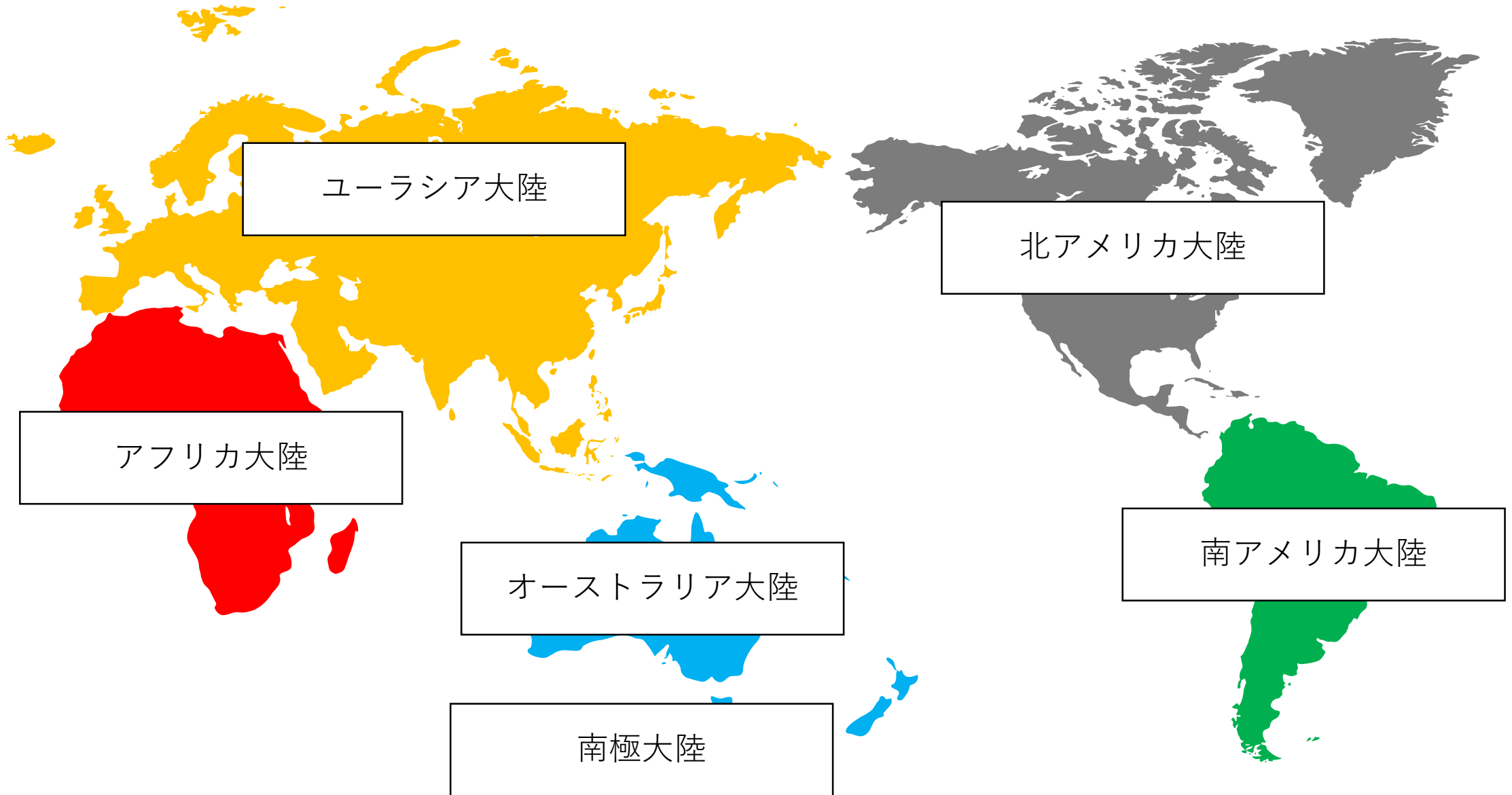
陸地は大きく 6 つの大陸と数多くの島々に分かれ、

海洋は 3 つの大洋とそのほかの海に分かれます。

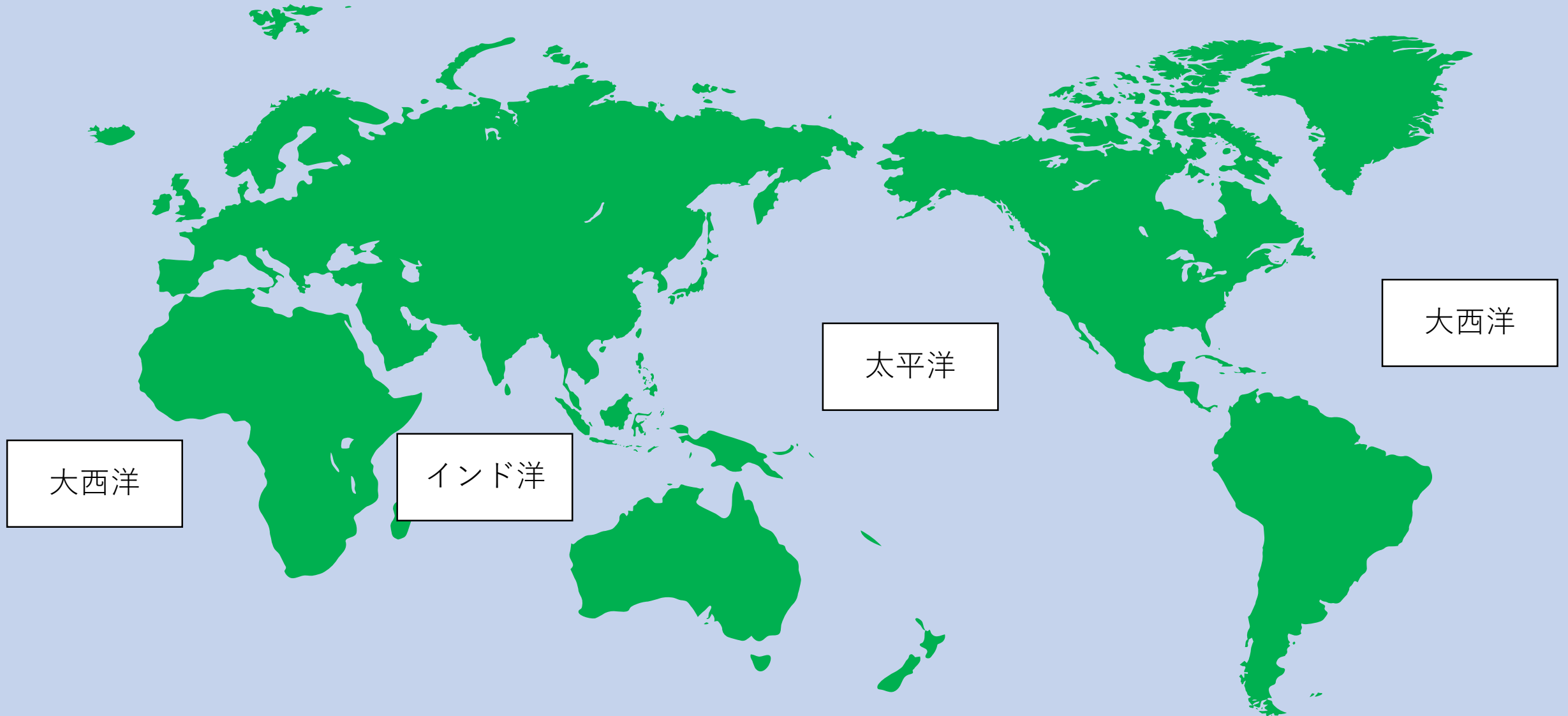
テストによく出る！！ ～六大陸編～



テストによく出る！！ ～六大陸編～



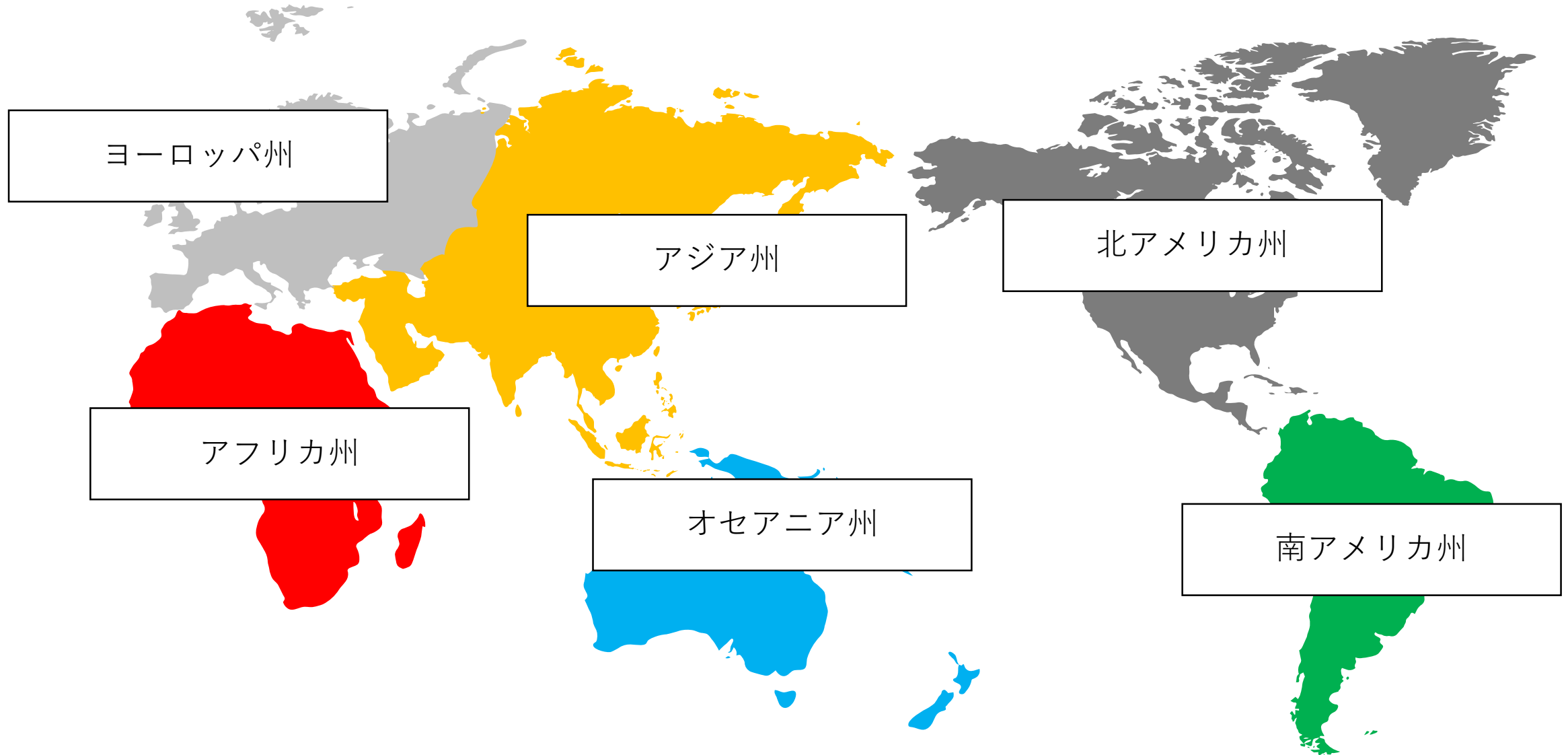
テストによく出る！！ ～三大洋編～



この大陸は地理的な分け方です

さらに文化や人種で分けた
『州』 というものがあります。

テストによく出る！！ ～六州編～




【板書内容】

1. 地球をながめて

<六つの大陸と三つの大洋>

六大陸	ユーラシア大陸	アジア州、ヨーロッパ州	州
	アフリカ大陸	アフリカ州	
	オーストラリア大陸	オセアニア州	
	北アメリカ大陸	北アメリカ州	
	南アメリカ大陸	南アメリカ州	
	南極大陸		

三大洋 太平洋、大西洋、インド洋



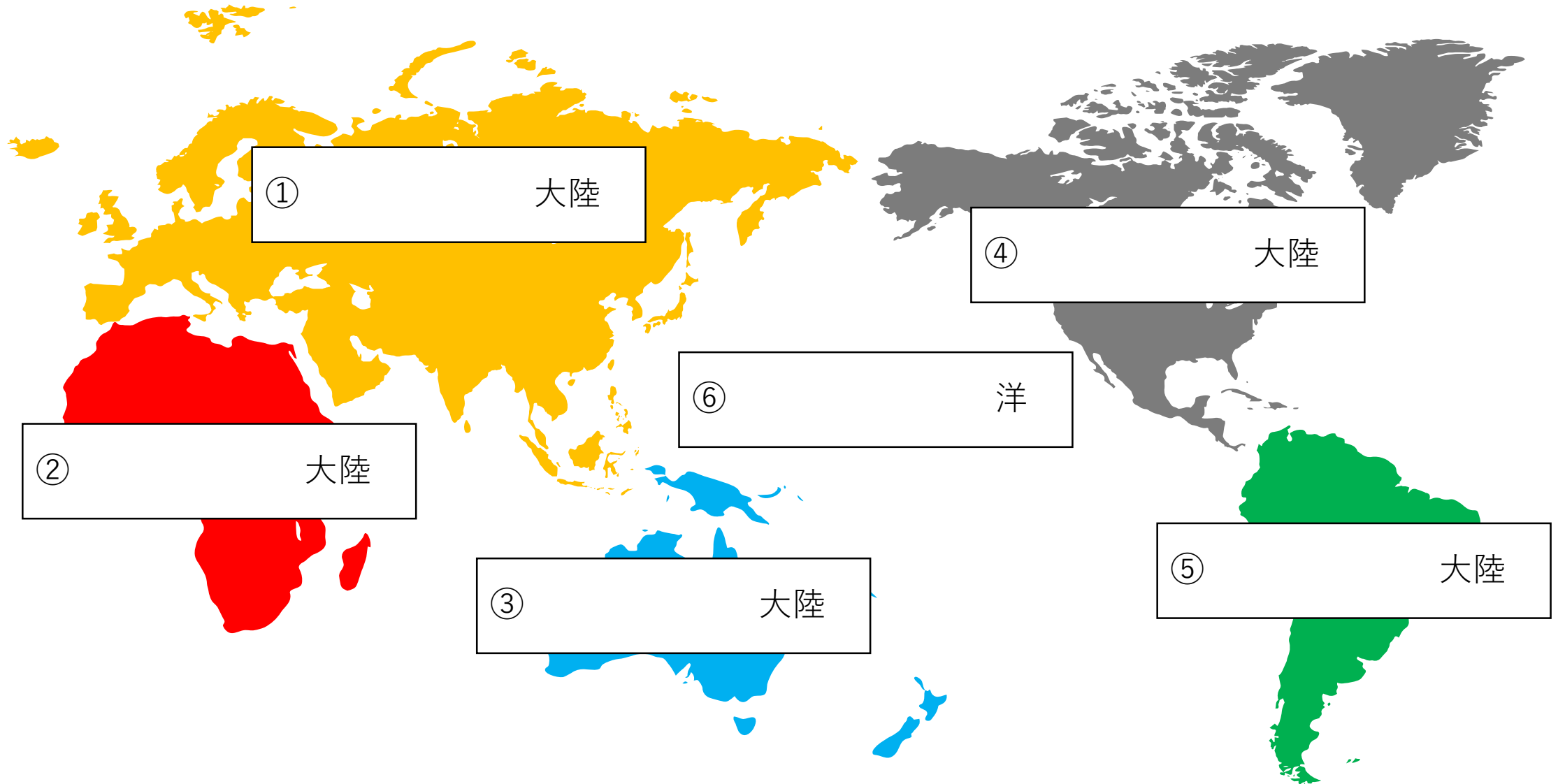
次のスライドから確認テストです。

復習をしてから臨もう！

確認テスト

- ① 地球上では陸地と海のどちらが大きいですでしょうか？
- ② 陸地と海の大きさの割合は何対何でしょう？
- ③ 次のスライドの地図中①～⑥に当てはまるものを答えなさい。

テストによく出る！！ ～六大陸編～



確認テスト (解答)

① 地球上では陸地と海のどちらが大きいですでしょうか？

A.海

② 陸地と海の大きさの割合は何対何でしょう？

A.3対7

③ 次のスライドの地図中①～⑥に当てはまるものを答えなさい。

①ユーラシア

②アフリカ

③オーストラリア

④北アメリカ

⑤南アメリカ

⑥太平

お疲れ様でした。

また、次回頑張りましょう。